




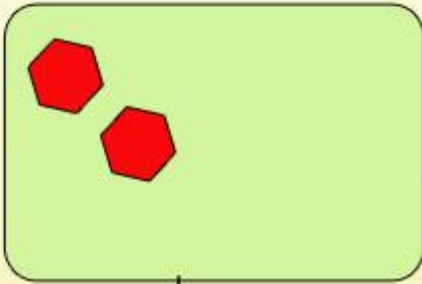
النشاط الاول

الاعداد من 0 الى 9

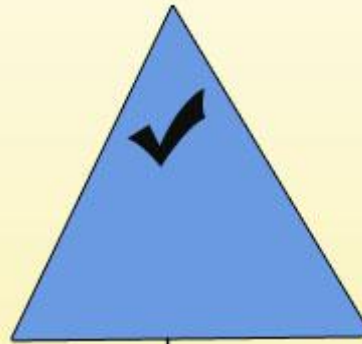
1. اكتب عدد عناصر كل مجموعة



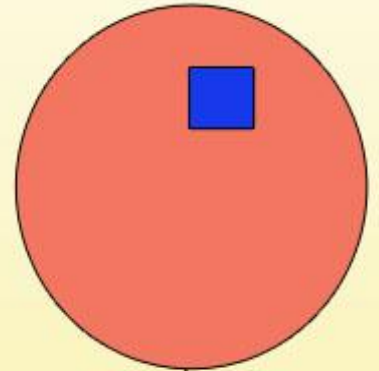
2. اكمل عناصر كل مجموعة حسب العدد المطلوب



5



4



7

النشاط الثاني

ترتيب الاعداد من 0 الى 9

1. ارتب الاعداد التالية من الاكبر الى الاصغر

8 7 5 9 2 3

> > > > >

2. اضع رمز اصغر < او اكبر > بين كل عددين

4 1

6 2

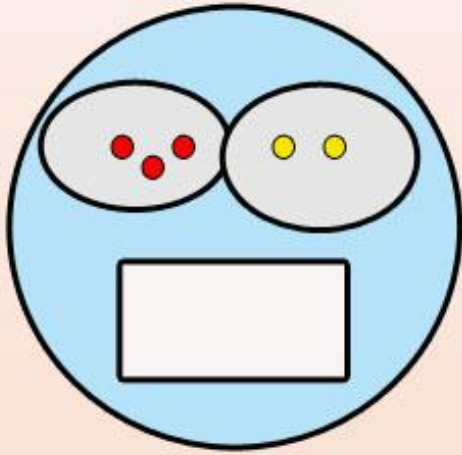
5 9

3 0

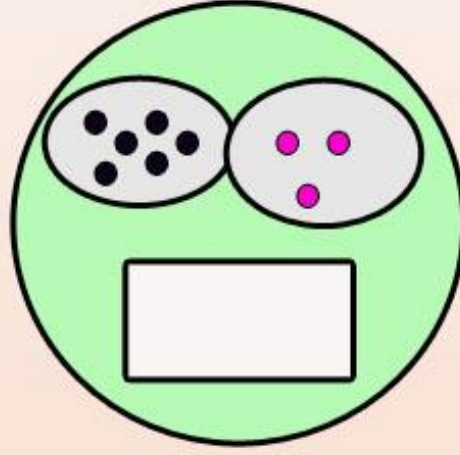
النشاط الثالث

التعبير عن عدد بكتابة جمعية

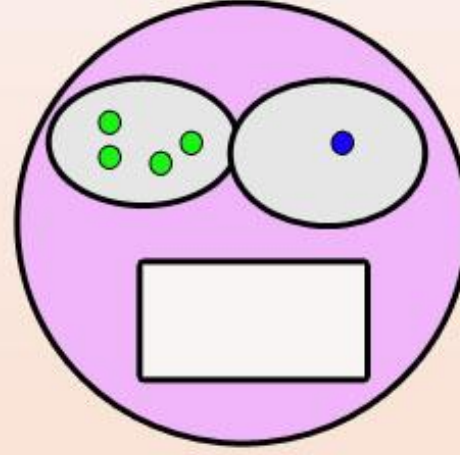
1. اصل بسهم كل مجموعة بالكتابة الجمعية المناسبة



$$6+3$$

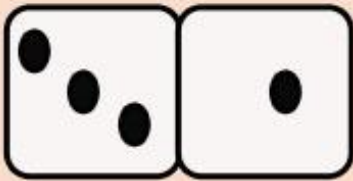


$$4+1$$




$$3+2$$


2. انجز العملية و اكتب العدد المناسب في كل خانة



$$\cdot + \cdot = \cdot$$



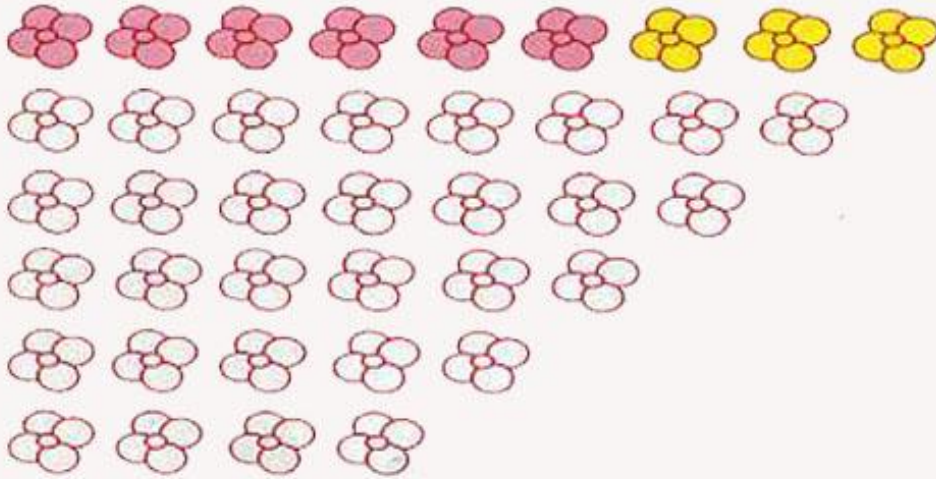
$$\cdot + \cdot = \cdot$$



$$\cdot + \cdot = \cdot$$

العاب و ايقاعات

1. اللون الازهار كما في المثال



$9 = 6 + 3$

$8 = 2 + 6$


$7 = 3 + 4$

$6 = 5 + 1$

$5 = 2 + 3$

$4 = 2 + 2$

2. لاحظ الاقلام عددها بكتابة جمعية



. + . + . + . + . + .

3. اللون خانة العدد المناسب

